


Nom : Prénom :	<u>TECHNOLOGIE 5ème</u>	Classe :
<u>C.I</u> Ac 8, M1 à 6, Ev3	<u>Comment agencer un espace ?</u>	




# NANYUKI



*Fairmont*  
MOUNT KENYA SAFARI CLUB



120 chambres - Situé en montagne - Golf attenant -  
Cuisine locale traditionnelle - Piscine extérieure -  
Vues spectaculaires sur le Mont Kenya.

Nom : Prénom :	<b>TECHNOLOGIE 5ème</b>	Classe :
<u>C.I</u> Ac 8, M1 à 6, Ev3	<b><u>Comment agencer un espace ?</u></b>	

### A) Mise en situation :

Le propriétaire de l'hôtel **Fairmont Mount Kenya Safari Club** a contacté votre entreprise d'architecture d'intérieur pour repenser 5 niveaux de son établissement de luxe. Pour ce projet vous allez devoir réaliser par groupe un niveau complet en fonction des spécificités du cahier des charges du propriétaire. Les niveaux concernés sont le 1<sup>er</sup>, le 2<sup>ème</sup>, le 3<sup>ème</sup>, le 4<sup>ème</sup> et le 5<sup>ème</sup>.

## Le 1<sup>er</sup> niveau



### B) Problématique :

Le 1<sup>er</sup> niveau comporte 2 suites. Le directeur de l'hôtel souhaiterait en faire une suite présidentielle.

### C) Déroulement :


- 1- Réalisation sur sweet home 3d
- 2- Réalisation de la maquette

### D) Caractéristiques de la suite :

- Dimensions du niveau : 11.48m x 8.23m.
- Chambre : 35 m<sup>2</sup> - 1 lit double.
- Salle à manger : 20 m<sup>2</sup>.
- Télévision-écran plat/LCD, lit bébé, armoire.
- Salle de bain : 15m<sup>2</sup> avec Baignoire, douche, toilettes séparées, sèche-cheveux, peignoirs.
- Salon : 22m<sup>2</sup> avec canapé et fauteuils.
- Ascenseur : 3m<sup>2</sup>.





Nom : Prénom :	<u>TECHNOLOGIE 5ème</u>	Classe :
<u>C.I</u> Ac 8, M1 à 6, Ev3	<u>Comment agencer un espace ?</u>	

### A) Mise en situation :

Le propriétaire de l'hôtel **Fairmont Mount Kenya Safari Club** a contacté votre entreprise d'architecture d'intérieur pour repenser 5 niveaux de son établissement de luxe. Pour ce projet vous allez devoir réaliser par groupe un niveau complet en fonction des spécificités du cahier des charges du propriétaire. Les niveaux concernés sont le 1<sup>er</sup>, le 2<sup>ème</sup>, le 3<sup>ème</sup>, le 4<sup>ème</sup> et le 5ème.

## Le 2<sup>ème</sup> niveau



### B) Problématique :


Le 2<sup>ème</sup> niveau comporte 1 suite. Le directeur de l'hôtel souhaiterait en faire 2 chambres VIP.

### C) Déroulement :

- 1- Réalisation sur sweet home 3d.
- 2- Réalisation de la maquette.

### D) Caractéristiques des chambres VIP :

- Dimensions du niveau : 11.48m x 8.23m.
- Chambres : 20m<sup>2</sup> - 1 Lit double ou lits jumeaux, 1 Lit king size.
- Télévision-écran plat/LCD, lit bébé, armoire.
- Salles de bain : 11m<sup>2</sup> avec baignoire, douche, toilettes séparées, sèche-cheveux, Peignoirs
- Salons : 15m<sup>2</sup> avec canapé et fauteuils.
- Ascenseur : 3m<sup>2</sup>.

Nom : Prénom :	<b>TECHNOLOGIE 5ème</b>	Classe :
<u>C.I</u> Ac 8, M1 à 6, Ev3	<b><u>Comment agencer un espace ?</u></b>	

#### A) Mise en situation :

Le propriétaire de l'hôtel **Fairmont Mount Kenya Safari Club** à contacté votre entreprise d'architecture d'intérieur pour repenser 5 niveaux de son établissement de luxe. Pour ce projet vous allez devoir réaliser par groupe un niveau complet en fonction des spécificités du cahier des charges du propriétaire. Les niveaux concernés sont le 1<sup>er</sup>, le 2<sup>ème</sup>, le 3<sup>ème</sup>, le 4<sup>ème</sup> et le 5<sup>ème</sup>.

### Le 3<sup>ème</sup> niveau



#### B) Problématique :


Le 3<sup>ème</sup> niveau comporte des chambres. Le directeur de l'hôtel souhaite 3 chambres de luxe.


#### C) Déroulement :

- 1- Réalisation sur sweet home 3d
- 2- Réalisation de la maquette

#### D) Caractéristiques des chambres :

- Dimensions du niveau : 11.48m x 8.23m.
- Une chambre de 12m<sup>2</sup>.
- Une chambre de 13m<sup>2</sup>.
- Une chambre de 14m<sup>2</sup>.
- 3 Télévision écran plat/LCD, armoires. :
- Un salle de bain : 7m<sup>2</sup>.
- Salon / bar : 12m<sup>2</sup>.
- Ascenseur : 3m<sup>2</sup>.



Nom : Prénom :	<u>TECHNOLOGIE 5ème</u>	Classe :
<u>C.I</u> Ac 8, M1 à 6, Ev3	<u>Comment agencer un espace ?</u>	

#### A) Mise en situation :

Le propriétaire de l'hôtel **Fairmont Mount Kenya Safari Club** à contacté votre entreprise d'architecture d'intérieur pour repenser 5 niveaux de son établissement de luxe. Pour ce projet vous allez devoir réaliser par groupe un niveau complet en fonction des spécificités du cahier des charges du propriétaire. Les niveaux concernés sont le 1<sup>er</sup>, le 2<sup>ème</sup>, le 3<sup>ème</sup>, le 4<sup>ème</sup> et le 5<sup>ème</sup>.

### Le 4<sup>ème</sup> niveau



#### B) Problématique :

Le 4<sup>ème</sup> niveau comporte des chambres. Le directeur de l'hôtel souhaite 3 chambres de luxe.


#### C) Déroulement :

- 1- Réalisation sur sweet home 3d
- 2- Réalisation de la maquette

#### D) Caractéristiques des chambres :

- Dimensions du niveau : 11.48m x 8.23m.
- Une chambre de 12m<sup>2</sup>.
- Une chambre de 13m<sup>2</sup>.
- Une chambre de 14m<sup>2</sup>.
- 3 Télévision écran plat/LCD, armoires. :
- Un salle de bain : 7m<sup>2</sup>.
- Une cuisine : 12m<sup>2</sup>.
- Ascenseur : 3m<sup>2</sup>.



Nom : Prénom :	<u>TECHNOLOGIE 5ème</u>	Classe :
<u>C.I</u> Ac 8, M1 à 6, Ev3	<u>Comment agencer un espace ?</u>	

#### A) Mise en situation :

Le propriétaire de l'hôtel **Fairmont Mount Kenya Safari Club** à contacté votre entreprise d'architecture d'intérieur pour repenser 5 niveaux de son établissement de luxe. Pour ce projet vous allez devoir réaliser par groupe un niveau complet en fonction des spécificités du cahier des charges du propriétaire. Les niveaux concernés sont le 1<sup>er</sup>, le 2<sup>ème</sup>, le 3<sup>ème</sup>, le 4<sup>ème</sup> et le 5<sup>ème</sup>.

### Le 5<sup>ème</sup> niveau



#### B) Problématique :

Le 5<sup>ème</sup> niveau comporte 4 chambres. Le directeur de l'hôtel souhaiterait faire 3 suites.

#### C) Déroulement :

- 1- Réalisation sur sweet home 3d
- 2- Réalisation de la maquette

#### D) Caractéristiques de la suite :

- Dimensions du niveau : 11.48m x 8.23m
- Chambre : 13 m<sup>2</sup> - 1 lit double ou lits jumeaux.
- Télévision-écran plat/LCD, lit bébé, armoire
- Salle de bain : 5m<sup>2</sup> avec douche, toilettes séparées, sèche-cheveux, peignoirs.
- Salon : 12m<sup>2</sup> avec canapé et fauteuils.
- Ascenseur : 3m<sup>2</sup>.

